



Merci de ta visite !



Nous espérons que tu t'es bien amusé !

Musée de Nouvelle-Calédonie

Lances, arcs et flèches de Mélanésie

Exposition
17 avril - 9 juin 2002

Musée de Nouvelle-Calédonie

Livret - Jeu
NIVEAU 2
8 à 10 ans

Mets ton nom ici:

.....
Quel âge as-tu?

.....
Dans quelle classe es-tu?

.....
Quelle est ton école?
.....

Papouasie Nouvelle-Guinée

En quoi la lance de cérémonie est-elle différente d'une lance de guerre?

.....


.....



Dessine une lance de cérémonie:

Dessine une flèche de chasse et de pêche:

Habille ce guerrier papou de ses armes et de ses protections et donne le nom de chacun des objets que tu dessines.



Les lances de Mélanésie

La lance peut être utilisée de deux manières.

Lis l'introduction et complète cette phrase:

« La lance est à la fois une arme de ou de.....et une arme de.....à.....ou d'....., tantôt à usage statique, tantôt projetée. »


Lorsque la lance est jetée, le lanceur peut utiliser un propulseur. Lis l'introduction et complète cette phrase:

« Il est utilisé pourla puissance, la poussée et la.....du bras du lanceur. »

Dessine les deux types de propulseurs que l'on trouve en Mélanésie:

1/ En Nouvelle-Calédonie

2/ En Papouasie Nouvelle-Guinée



Vanuatu

Complète les phrases:

« Les flèches et les lances munies de pointes en osétaient toujours..... »

A la foiset précieuses, elles étaient réservées à La puissance spirituelle dudont provenait ces os, imprégnait ces pointes, et appuyée par des formules....., contribuait autant que le..... à l'efficacité de l'arme. »

« Les dents deintégrées aux figures décorant les arcs....., utilisées pour les d'initiation, indiquent lesocial de son commanditaire. »

Dessine une lance avec des pointes en os:

Nouvelle-Calédonie

Complète les phrases:

« Avec l'arrivée desen Nouvelle-Calédonie, l'..... et laont été abandonnés par les kanaks. En 1859, un arrêté du Gouverneur.....de circuler avec une..... sous peine de mort et progressivement, les armes à et les armes blanches enremplacèrent l'.....et la flèche.

Cite les trois fonctions principales de la lance:

- 1/
- 2/
- 3/

Complète les phrases:

« Dans le nord, l'arc est..... comme un élément Sa forme convexe rappelle le.....d'une femme , la flèche étant son..... Il est précieusement et ne se..... ni ne s'échange jamais »

Sur l'ensemble de la Nouvelle-Calédonie, l'arc et la flèche étaient utilisés uniquement pour la pêche et la.....

